

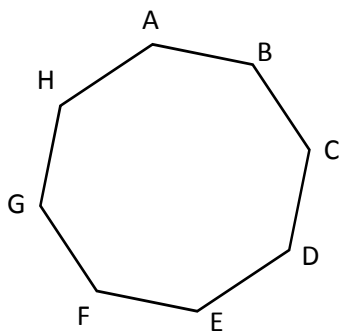
## INVESTICE DO ROZVOJE VZDĚLÁVÁNÍ

Název:	VY_32_INOVACE_MA_3A_17I
Škola:	Základní škola Nové Město nad Metují, Školní 1000, okres Náchod
Autor:	Mgr. Ivana Hackerová
Ročník:	3.
Tematický okruh, předmět:	Využívání informačních a komunikačních technologií - geometrie
Téma:	Rovinné útvary – strany sousední a protější, mnohoúhelníky
Číslo projektu:	CZ.1.07/1.4.00/21.2336
Datum:	2. dubna 2013
Anotace:	Zadání práce bylo promítáno dataprojektorem na promítací plátno. Práce je připravena jako opakování učiva, pracovní listy jsou připraveny pro každého žáka jako samostatná práce. Časová dotace: 15 - 20 minut

## INVESTICE DO ROZVOJE VZDĚLÁVÁNÍ

Jméno: \_\_\_\_\_

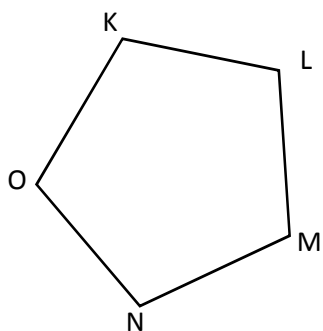
### 1. Pojmenuj správně mnohoúhelníky a zapiš jejich vrcholy a strany:



název: \_\_\_\_\_

vrcholy: \_\_\_\_\_

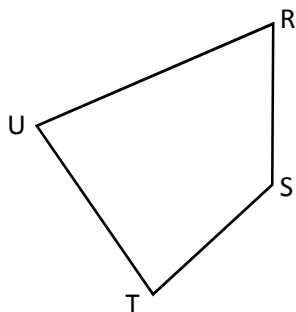
strany: \_\_\_\_\_



název: \_\_\_\_\_

vrcholy: \_\_\_\_\_

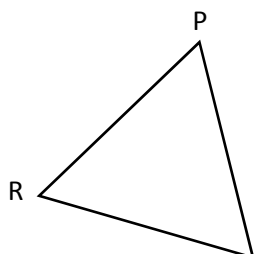
strany: \_\_\_\_\_



název: \_\_\_\_\_

vrcholy: \_\_\_\_\_

strany: \_\_\_\_\_



název: \_\_\_\_\_

vrcholy: \_\_\_\_\_

strany: \_\_\_\_\_



## INVESTICE DO ROZVOJE VZDĚLÁVÁNÍ

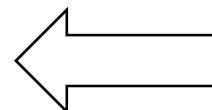
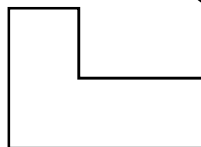
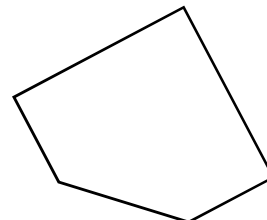
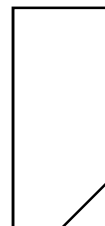
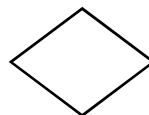

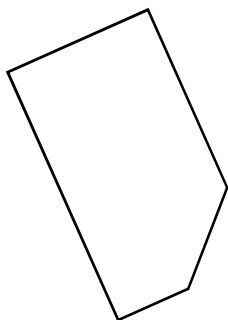
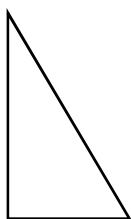

J

---

---

I

### 5. Vybarvi zeleně pouze pětiúhelníky:



Pro rychlíky:

Zkus nakreslit jedním tahem:

